

22.11.2021

Thema: Hast du Geschwister? – Czy masz rodzeństwo?

Słówka do lekcji:

- ich habe – ja mam
- du hast – ty masz
- Hast du...? – Czy masz...?
- Ich habe keine...- Nie mam
- die Geschwister – rodzeństwo
- der Bruder – brat / die Brüder – bracia
- die Schwester – siostra / die Schwestern – siostry
- die Zwillinge – bliźnięta
- das Einzelkind – jedynak, jedynaczka

Pytanie: Hast du Geschwister?

Przykładowe odpowiedzi :

Ja, ich habe einen Bruder / zwei Brüder. *Tak, mam brata / dwóch braci.*

Ja, ich habe eine Schwester / drei Schwestern. / *Tak, mam siostrę / trzy siostry.*

Ja, ich habe einen Bruder und eine Schwester. / *Tak, mam brata i siostrę.*

Nein, ich bin ein Einzelkind. *Nie, jestem jedynakiem.*

Ich habe keine Geschwister. *Nie mam rodzeństwa.*

Zadanie:

Odpowiedz na pytanie:

Hast du Geschwister? – Czy masz rodzeństwo?

.....

22.11.2021 / 8.Klasse

Thema: Krank und gesund.

Słówka:

krank – chory

gesund - zdrowy

Ich bin krank – Jestem chory.

Ich bin gesund – jestem zdrowy

Bist du krank? – Czy jesteś chory?

Bist du gesund? – Czy jesteś zdrowy?

Üb. 1

Poćwicz słówka

Üb. 3

Przetwórz zdania – tak jak w przykładzie:

Schmerzen – bóle

tut weh - boli

1. Ich habe **Bauch**schmerzen. Mir tut der **Bauch** weh.

/Mam bóle brzucha/

/Mnie boli brzuch?

Krank & gesund

1 • Wie heißt das auf Polnisch? Ordne zu.
Przyporządkuj polskie wyrazy ich niemieckim odpowiednikom.

- | | |
|--------------------------------------|---|
| 1. <input type="checkbox"/> der Kopf | 8. <input type="checkbox"/> die Hand |
| 2. <input type="checkbox"/> das Auge | 9. <input checked="" type="checkbox"/> der Finger |
| 3. <input type="checkbox"/> das Ohr | 10. <input type="checkbox"/> der Bauch |
| 4. <input type="checkbox"/> die Nase | 11. <input type="checkbox"/> das Bein |
| 5. <input type="checkbox"/> der Mund | 12. <input type="checkbox"/> der Fuß |
| 6. <input type="checkbox"/> der Hals | 13. <input type="checkbox"/> der Zahn |
| 7. <input type="checkbox"/> der Arm | |

- | | |
|------------------|----------|
| A. oko | H. nos |
| B. szyja; gardło | I. ręka |
| C. brzuch | J. stopa |
| D. głowa | K. ucho |
| E. ząb | L. noga |
| F. palec | M. usta |
| G. ramię | |

2 • Kannst du rechnen? Bilde Sätze.
Czy potrafisz liczyć? Ułóż zdania.



Eine Familie mit fünf Personen hat zehn Hände.

.....

.....

.....

3 • Was tut dir weh? Schreibe Sätze wie im Beispiel.
Co cię boli? Napisz zdania tak, jak w przykładzie.

1. Ich habe Bauchschmerzen.
2. Ich habe Halsschmerzen.
3. Ich habe Zahnschmerzen.
4. Ich habe Rückenschmerzen.
5. Ich habe Ohrenschmerzen.
6. Ich habe Kopfschmerzen.

Mir tut der Bauch weh.

.....

.....

.....

.....

.....

HISTORIA I WOS

Klasa 7

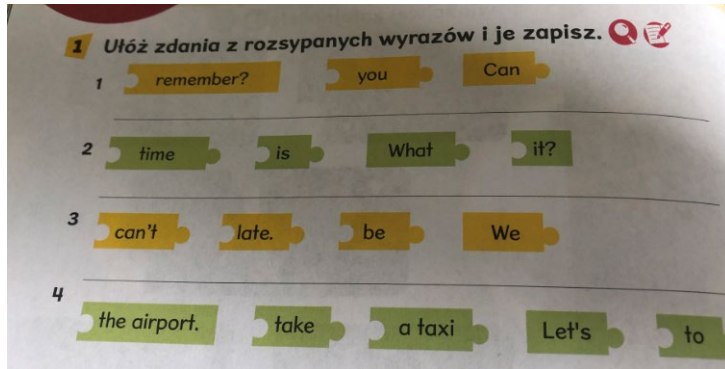
<https://www.youtube.com/watch?v=somBqp6J6ZM>

Klasa 8

https://www.youtube.com/watch?v=sp_UJgVxX68

J. ANGIELSKI

KL VII



Lesson

Subject: Travelling by train (Podróżowanie pociągiem – ćwiczenie zwrotów – oznaczanie czasu).

Witam serdecznie,

Dzisiaj nauczymy się godzin w języku angielskim. Na początek prosiłabym byście zapisali do zeszytu lekcję i temat. A następnie napisali:

Kiedy mówimy o pełnej godzinie np. **11:00** w języku angielskim podajemy najpierw cyfrę **eleven** a następnie słówko **o'clock**. Czyli:

It's eleven o'clock – 11:00

Natomiast kiedy chcemy powiedzieć godzinę **11:30** najpierw mówimy **half (to jest to nasze 30)** potem słówko **past** (po) i na końcu liczbę **eleven**. Czyli:

It's half past eleven -11:30 po polsku powiedzielibyśmy jest 30 minut po 11:00

Zadanie:1

Przepisz wyrazy do zeszytu i poćwicz wymowę.

Angielski	Polski	wymowa
Can you remember?	Czy pamiętasz	Ken ju rymem ber
Seaside	Wybrzeże	Sisajd
Beach	Plaża	Bicz
Suitcase	Walizka	Sjutkejs
What time is it?	Która jest godzina	Łot tajm is yt
It's eleven o'clock	Jest 11	Its eleven oklok
Go by bus	Jechać autobusem	Goł baj bas
It's half past eleven	Jest 11:30	Its half past elewen
Take a taxi	Jechać taksówką	Tejk a taksi
Airport	Lotnisko	Ejport
Be late	Być spóźnionym	Bi lejłt

Matematyka klasa 7 LL (22.11.21)

Temat: Cechy przystawania trójkątów część 1.

Warunek trójkąta lub nierówność trójkąta.



W dowolnym trójkącie suma długości każdych dwóch boków jest większa od długości trzeciego boku.

$$a + b > c$$

$$a + c > b$$

$$b + c > a$$

Figury przystające, jeśli mają taki sam kształt oraz taką samą wielkość, tzn. jedna z nich lub jej odbicie lustrzane można dokładnie nałożyć na drugą (przesuając j



Ćwiczenie.

Narysuj trójkąt o bokach długości 5 cm, 5 cm i 3 cm.

Kl VIII

Lesson

Subject: Travelling by train (Podróżowanie pociągiem – ćwiczenie zwrotów – oznaczanie czasu).

Witam serdecznie,

Dzisiaj nauczymy się godzin w języku angielskim. Na początek prosiłabym byście zapisali do zeszytu lekcję i temat. A następnie napisali:

Kiedy mówimy o pełnej godzinie np. **11:00** w języku angielskim podajemy najpierw cyfrę **eleven** a następnie słówko **o'clock**. Czyli:

It's eleven o'clock – 11:00

Natomiast kiedy chcemy powiedzieć godzinę **11:30** najpierw mówimy **half (to jest to nasze 30)** potem słówko **past (po)** i na końcu liczbę **eleven**. Czyli:

It's half past eleven -11:30 po polsku powiedzielibyśmy jest 30 minut po 11:00

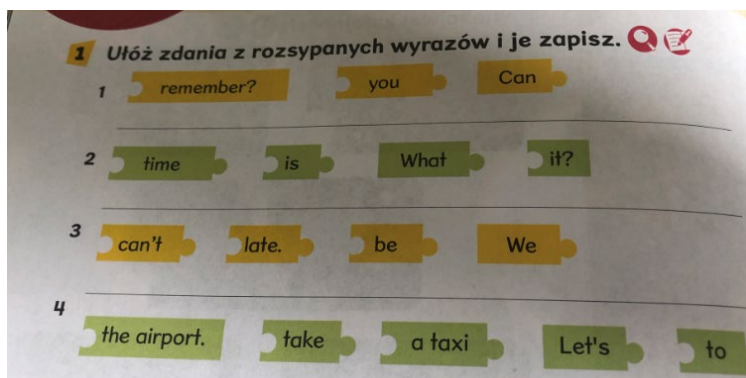
Zadanie:1

Przepisz wyrazy do zeszytu i poćwicz wymowę.

Angielski	Polski	wymowa
Can you remember?	Czy pamiętasz	Ken ju rymem ber
Seaside	Wybrzeże	Sisajd
Beach	Plaża	Bicz
Suitcase	Walizka	Sjutkejs
What time is it?	Która jest godzina	Łot tajm is yt
It's eleven o'clock	Jest 11	Its eleven oklok
Go by bus	Jechać autobusem	Goł baj bas
It's half past eleven	Jest 11:30	Its half past elewen
Take a taxi	Jechać taksówką	Tejk a taksi
Airport	Lotnisko	Ejport
Be late	Być spóźnionym	Bi lejt

Zadanie: 3

Ułóż zdania z rozsypanych wyrazów i je zapisz.



Matematyka klasa 8LL (22.11.21)

Temat : Rozwiązujemy zadania testowe.

Zadanie 1. Franek otrzymywał kieszonkowe w wysokości 75 zł. Równoległe z podwyżką pensji mamy kieszonkowe Franka wzrosło o 20 %.

Dokończ zdanie. Wybierz właściwą odpowiedź spośród podanych.

Kieszonkowe franka wynosi teraz

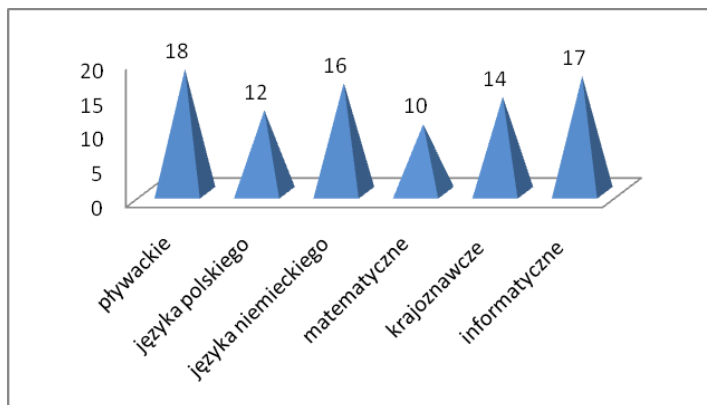
- A. 80 zł B. 85 zł C. 90 zł D. 100 zł

Zadanie 2.

Oceń prawdziwość podanych zdań. Wybierz P, jeśli zdanie jest prawdziwe, albo F – jeśli jest fałszywe.

Liczba 343 jest sześcianiem liczby 7	P	F
Kwadratem liczby 11 jest liczba 111	P	F

Zadanie 3. Wykres uczęszczania uczniów na kółka. **Odpowiedzi i obliczenia zapisz.**



1. Ilu uczniów uczęszcza na kółko krajoznawcze?
2. Które zajęcia mają najmniej uczestników?
3. Oblicz ilu uczniów chodzi na zajęcia z matematyki, niemieckiego, informatyki i pływania?
4. Na które zajęcia chodzi najwięcej uczniów?
5. Ilu uczniów uczęszcza razem na wszystkie zajęcia?

Zadanie 4.

Oblicz długość okręgu o podanej średnicy d . wzoru $L = \pi d$.

- a) $d = 8$ b) $d = 0,5$ c) $d = 9$
- $L = 8\pi$ $L = 0,5\pi$ $L = 9\pi$